

WYPEŁNIA UCZEŃ

KOD UCZNI

--	--	--

PESEL

--	--	--	--	--	--	--	--	--	--

Miejsce na naklejkę.
Sprawdź, czy kod na naklejce to
O-100.

Jeżeli tak – przyklej naklejkę.
Jeżeli nie – zgłoś to nauczycielowi.



Egzamin ósmoklasisty Matematyka

DATA: **25 maja 2022 r.**

GODZINA ROZPOCZĘCIA: **9:00**

CZAS PRACY: **100 minut**

Instrukcja dla ucznia

1. Sprawdź, czy na kolejno ponumerowanych **20 stronach** jest wydrukowanych **19 zadań**.
2. Sprawdź, czy do arkusza jest dołączona karta odpowiedzi.
3. Ewentualny brak stron lub inne usterki zgłoś nauczycielowi.
4. Na tej stronie i na karcie odpowiedzi w wyznaczonych miejscach wpisz swój kod, numer PESEL i przyklej naklejkę z kodem.
5. Czytaj uważnie wszystkie zadania i wykonuj je zgodnie z poleceniami.
6. Rozwiązania zadań zapisuj długopisem lub piórem z czarnym tuszem/atramentem.
7. Nie używaj korektora.
8. Rozwiązania zadań **zamkniętych**, tj. **1–15**, zaznacz na karcie odpowiedzi zgodnie z informacjami zamieszczonymi na następnej stronie. W każdym zadaniu poprawna jest zawsze **tylko jedna** odpowiedź.
9. Rozwiązania zadań **otwartych**, tj. **16–19**, zapisz czytelnie i starannie w wyznaczonych miejscach w arkuszu egzaminacyjnym. Ewentualne poprawki w odpowiedziach zapisz zgodnie z informacjami zamieszczonymi na następnej stronie.
10. Zapisy w brudnopisie nie będą sprawdzane i oceniane.

Powodzenia!

WYPEŁNIA ZESPÓŁ NADZORUJĄCY

Uprawnienia
ucznia do:

nieprzenoszenia odpowiedzi
na kartę odpowiedzi

dostosowania
zasad oceniania.

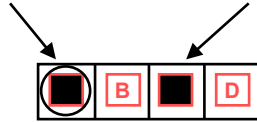


OMAP-**100**-2205

Zapoznaj się z poniższymi informacjami

1. Jak na karcie odpowiedzi zaznaczyć poprawną odpowiedź oraz pomyłkę w zadaniach zamkniętych?

Staraj się nie popełniać błędów przy zaznaczaniu odpowiedzi, ale jeśli się pomylisz, błędne zaznaczenie otocz kółkiem i zaznacz inną odpowiedź, np.



Poprawna odpowiedź w zadaniu	Układ możliwych odpowiedzi na karcie odpowiedzi	Sposób zaznaczenia <u>poprawnej</u> odpowiedzi	Sposób zaznaczenia <u>pomyłki</u> i poprawnej odpowiedzi																		
C	<table border="1"><tr><td>A</td><td>B</td><td>C</td><td>D</td></tr></table>	A	B	C	D	<table border="1"><tr><td>A</td><td>B</td><td>■</td><td>D</td></tr></table>	A	B	■	D	<table border="1"><tr><td>○</td><td>B</td><td>■</td><td>D</td></tr></table>	○	B	■	D						
A	B	C	D																		
A	B	■	D																		
○	B	■	D																		
AD	<table border="1"><tr><td>AC</td><td>AD</td><td>BC</td><td>BD</td></tr></table>	AC	AD	BC	BD	<table border="1"><tr><td>AC</td><td>■</td><td>BC</td><td>BD</td></tr></table>	AC	■	BC	BD	<table border="1"><tr><td>AC</td><td>■</td><td>BC</td><td>○</td></tr></table>	AC	■	BC	○						
AC	AD	BC	BD																		
AC	■	BC	BD																		
AC	■	BC	○																		
FP	<table border="1"><tr><td>PP</td><td>PF</td><td>FP</td><td>FF</td></tr></table>	PP	PF	FP	FF	<table border="1"><tr><td>PP</td><td>PF</td><td>■</td><td>FF</td></tr></table>	PP	PF	■	FF	<table border="1"><tr><td>PP</td><td>○</td><td>■</td><td>FF</td></tr></table>	PP	○	■	FF						
PP	PF	FP	FF																		
PP	PF	■	FF																		
PP	○	■	FF																		
A3	<table border="1"><tr><td>A1</td><td>A2</td><td>A3</td><td>B1</td><td>B2</td><td>B3</td></tr></table>	A1	A2	A3	B1	B2	B3	<table border="1"><tr><td>A1</td><td>A2</td><td>■</td><td>B1</td><td>B2</td><td>B3</td></tr></table>	A1	A2	■	B1	B2	B3	<table border="1"><tr><td>A1</td><td>A2</td><td>■</td><td>B1</td><td>○</td><td>■</td></tr></table>	A1	A2	■	B1	○	■
A1	A2	A3	B1	B2	B3																
A1	A2	■	B1	B2	B3																
A1	A2	■	B1	○	■																

2. Jak zaznaczyć pomyłkę i zapisać poprawną odpowiedź w zadaniach otwartych?

Jeśli się pomylisz, zapisując odpowiedź w zadaniu otwartym, pomyłkę przekreśl i napisz poprawną odpowiedź, np.

nad niepoprawnym fragmentem

64 cm²

Pole kwadratu jest równe ~~100 cm²~~

lub obok niego

Pole kwadratu jest równe ~~100 cm²~~ 64 cm²


Zadania egzaminacyjne są wydrukowane na kolejnych stronach.

Zadanie 1. (0–1)

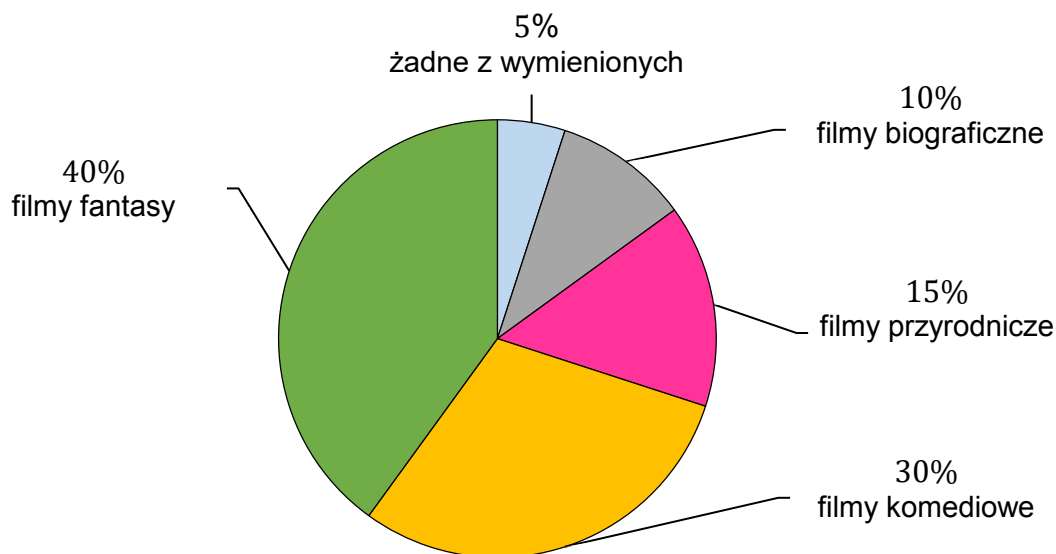
Wśród uczniów klas ósmych przeprowadzono ankietę. Jedno z pytań tej ankiety zamieszczono poniżej.

Jakie filmy oglądasz najchętniej?
Zaznacz tylko jedną odpowiedź.

- biograficzne
- fantasy
- komediowe
- przyrodnicze
- żadne z wymienionych



Każdy z uczniów wypełniających ankietę zaznaczył tylko jedną odpowiedź. Cztero spośród ankietowanych zaznaczyło odpowiedź *żadne z wymienionych*. Procentowy rozkład udzielonych odpowiedzi uczniów przedstawiono na poniższym diagramie.




Oceń prawdziwość podanych zdań. Wybierz P, jeśli zdanie jest prawdziwe, albo F – jeśli jest fałszywe.

W ankiecie wzięło udział 80 uczniów.	P	F
Filmy fantasy wybrało o 20 uczniów więcej niż uczniów, którzy wybrali filmy przyrodnicze.	P	F

PRZENIEŚ ROZWIĄZANIE ZADANIA NA KARTĘ ODPOWIEDZI!

Brudnopis (nie podlega ocenie)



Zadanie 2. (0–1)

Dokończ zdanie. Wybierz właściwą odpowiedź spośród podanych.

Wartość wyrażenia $\frac{4^2}{5} - 3^2$ jest równa

- A. $-\frac{29}{5}$ B. $-\frac{22}{5}$ C. $\frac{7}{5}$ D. $\frac{61}{5}$

Zadanie 3. (0–1)

Spośród wszystkich liczb trzycyfrowych o sumie cyfr równej 6 wybrano liczbę największą i liczbę najmniejszą.

Dokończ zdanie. Wybierz właściwą odpowiedź spośród podanych.

Suma wybranych liczb jest równa

- A. 714 B. 705 C. 606 D. 327

Zadanie 4. (0–1)

Liczba k jest sumą liczb 323 i 160.

Czy liczba k jest podzielna przez 3? Wybierz odpowiedź A albo B i jej uzasadnienie spośród 1., 2. albo 3.

A.	Tak,	ponieważ	1.	cyfrą jedności liczby k jest 3.
			2.	żadna z liczb 323 i 160 nie dzieli się przez 3.
B.	Nie,		3.	suma cyfr 3, 4 i 8 jest liczbą podzielną przez 3.

Zadanie 5. (0–1)

Dane są trzy liczby:

$$x = \frac{10^{30} \cdot 10^{70}}{10}$$

$$y = (10^3)^{15} \cdot 10^{60}$$


$$z = 10^{50} \cdot \frac{10^{80}}{10^{20}}$$

Która z tych liczb jest mniejsza od liczby 10^{100} ? Wybierz właściwą odpowiedź spośród podanych.

- A. Tylko x . B. Tylko y . C. Tylko z . D. Każda z liczb x, y, z .

PRZENIEŚ ROZWIĄZANIA ZADAŃ NA KARTĘ ODPOWIEDZI!

Brudnopis (nie podlega ocenie)



Zadanie 6. (0–1)

Na uszycie 90 jednakowych bluzek w rozmiarze S potrzeba tyle samo materiału, ile na uszycie 60 jednakowych bluzek w rozmiarze L .

Przyjmij, że na uszycie większej lub mniejszej liczby bluzek potrzeba proporcjonalnie więcej lub mniej materiału.

Uzupełnij zdania. Wybierz odpowiedź spośród oznaczonych literami A i B oraz odpowiedź spośród oznaczonych literami C i D.

Na uszycie 240 bluzek w rozmiarze S potrzeba tyle samo materiału, ile potrzeba na uszycie

A	B
---	---

 bluzek w rozmiarze L .

- A. 160 B. 150

Na uszycie dwóch bluzek w rozmiarze L potrzeba tyle samo materiału, ile potrzeba na uszycie

C	D
---	---

 bluzek w rozmiarze S .

- C. trzech D. pięciu

Zadanie 7. (0–1)

Dane jest wyrażenie $\frac{n^4 - 3}{6}$ oraz liczby: $-3, -1, 0, 1, 3$.

Dla której z danych liczb wartość podanego wyrażenia jest najmniejsza? Wybierz właściwą odpowiedź spośród podanych.

- A. -3 B. -1 C. 0 D. 1 E. 3

Zadanie 8. (0–1)


Dokończ zdanie. Wybierz właściwą odpowiedź spośród podanych.

Liczba $\sqrt{60}$ jest

- A. większa od 3 i mniejsza od 4.
B. większa od 4 i mniejsza od 5.
C. większa od 7 i mniejsza od 8.
D. większa od 8 i mniejsza od 9.

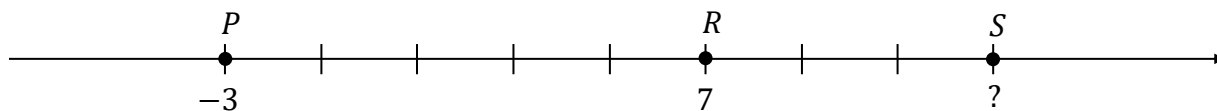
PRZENIEŚ ROZWIĄZANIA ZADAŃ NA KARTĘ ODPOWIEDZI!

Brudnopis (nie podlega ocenie)



Zadanie 9. (0–1)

Na osi liczbowej zaznaczono punkty P , R i S oraz podano współrzędne punktów P i R . Odcinek PS jest podzielony na 8 równych części (zobacz rysunek poniżej).



Dokończ zdanie. Wybierz właściwą odpowiedź spośród podanych.

Współrzędna punktu S jest równa

- A. 10 B. 11 C. 13 D. 15

Zadanie 10. (0–1)

Plik z prezentacją multimedialną Igora ma rozmiar 13 MB (megabajtów). Plik z prezentacją multimedialną Lidki ma 2,5 razy większy rozmiar (wyrażony w MB) niż plik z prezentacją Igora.

Dokończ zdanie. Wybierz właściwą odpowiedź spośród podanych.

Plik z prezentacją Lidki ma większy rozmiar niż plik z prezentacją Igora o

- A. 12 MB B. 19,5 MB C. 25 MB D. 32,5 MB

Zadanie 11. (0–1)

Ogrodnik kupił ziemię ogrodową, którą zaplanował zużyć w maju, czerwcu i lipcu. W maju zużył $\frac{1}{3}$ masy kupionej ziemi. W czerwcu zużył połowę masy ziemi, która została. Na lipiec pozostało mu jeszcze 60 kg ziemi.


Dokończ zdanie. Wybierz właściwą odpowiedź spośród podanych.

Jeżeli przez x oznaczymy masę zakupionej ziemi, to sytuację przedstawioną w zadaniu opisuje równanie

- A. $(x - \frac{1}{3}x) + \frac{1}{2}x = 60$ B. $(x - \frac{1}{3}x) + \frac{1}{2}(x - \frac{1}{3}x) = 60$
C. $(x - \frac{1}{3}x) - \frac{1}{2}x = 60$ D. $(x - \frac{1}{3}x) - \frac{1}{2}(x - \frac{1}{3}x) = 60$

PRZENIEŚ ROZWIĄZANIA ZADAŃ NA KARTĘ ODPOWIEDZI!

Brudnopis (*nie podlega ocenie*)



Zadanie 12. (0–1)

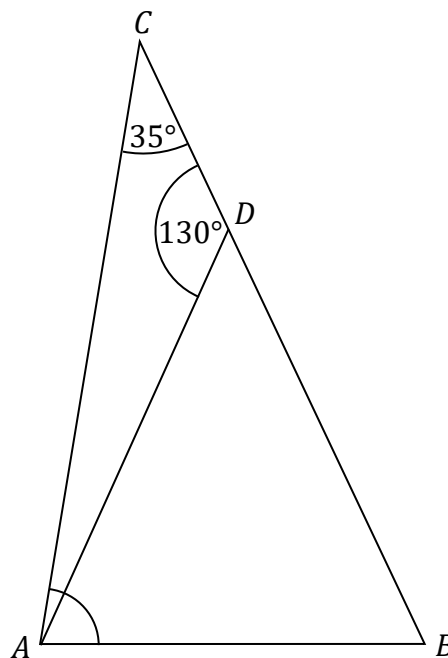
Trzy koleżanki kupiły bilety autobusowe w tym samym automacie. Martyna kupiła 6 biletów 75-minutowych i zapłaciła za te bilety 24 zł. Weronika kupiła 4 bilety 20-minutowe i zapłaciła za nie 12 zł. Ania kupiła 2 bilety 75-minutowe i 2 bilety 20-minutowe.

Ile Ania zapłaciła za bilety? Wybierz właściwą odpowiedź spośród podanych.

- A. 7 zł B. 14 zł C. 19 zł D. 20 zł

Zadanie 13. (0–1)

Dany jest trójkąt ABC , w którym kąt BCA ma miarę 35° . Punkt D leży na boku BC tego trójkąta. Odcinek AD ma taką samą długość jak odcinek BD . Kąt ADC ma miarę 130° (zobacz rysunek poniżej).




Dokończ zdanie. Wybierz właściwą odpowiedź spośród podanych.

Kąt CAB ma miarę

- A. 95° B. 75° C. 90° D. 80°

PRZENIEŚ ROZWIĄZANIA ZADAŃ NA KARTĘ ODPOWIEDZI!

Brudnopis (*nie podlega ocenie*)



Zadanie 14. (0–1)

W pudełku było wyłącznie 6 kulek zielonych i 8 kulek niebieskich. Po dołożeniu do tego pudełka pewnej liczby kulek zielonych prawdopodobieństwo wylosowania kulki niebieskiej jest równe $\frac{1}{4}$.

Ile kulek zielonych dołożono do pudełka? Wybierz właściwą odpowiedź spośród podanych.

A. 10

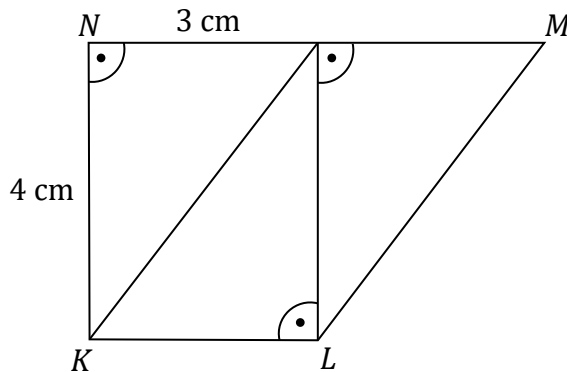
B. 16

C. 18

D. 24

Zadanie 15. (0–1)

Na rysunku przedstawiono trapez $KLMN$ zbudowany z trzech jednakowych trójkątów prostokątnych o przyprostokątnych długości 3 cm i 4 cm.




Oceń prawdziwość podanych zdań. Wybierz P, jeśli zdanie jest prawdziwe, albo F – jeśli jest fałszywe.

Pole trapezu $KLMN$ jest równe 18 cm^2 .	P	F
Obwód trapezu $KLMN$ jest równy 18 cm.	P	F

PRZENIEŚ ROZWIĄZANIA ZADAŃ NA KARTĘ ODPOWIEDZI!


Brudnopis (*nie podlega ocenie*)



Zadanie 16. (0–2)

Do wykonania naszyjnika Hania przygotowała 4 korale srebrne, 8 koralów czerwonych i kilka koralów zielonych. Następnie ze wszystkich przygotowanych koralów zrobiła naszyjnik. Zielone korale stanowią 20% wszystkich koralów w zrobionym naszyjniku.

Oblicz, ile zielonych koralów jest w naszyjniku. Zapisz obliczenia.




Zadanie 17. (0–2)

Kierowca przejechał ze stałą prędkością trasę o długości 22,5 km od godziny 7:50 do godziny 8:05.

Oblicz prędkość, z jaką kierowca przejechał tę trasę. Wynik wyraż w $\frac{\text{km}}{\text{h}}$.

Zapisz obliczenia.



Brudnopis (*nie podlega ocenie*)

