

IMIĘ I NAZWISKO

ZADANIE 1

Romb o kącie ostrym 30° jest opisany na okręgu o promieniu 2. Oblicz pole tego rombu.

Odp.:

ZADANIE 2

Stosunek miar kątów czworokąta jest równy 1:2:3:4. Zatem najmniejszy kąt tego wielokąta ma miarę
A) 36° B) 30° C) 72° D) 42°

Odpowiedź:

ZADANIE 3

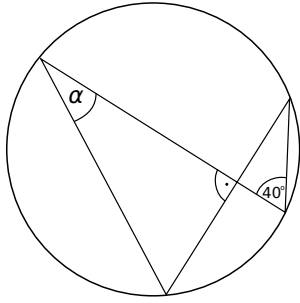
Liczba przekątnych jest równa liczbie boków w
A) siedmiokącie B) prostokącie C) sześciokącie
D) pięciokącie

Odpowiedź:

ZADANIE 4

Miara kąta α wynosi

Rozwiązania zadań znajdziesz na stronie
[HTTP://WWW.ZADANIA.INFO/3730_4272R](http://www.zadania.info/3730_4272R)



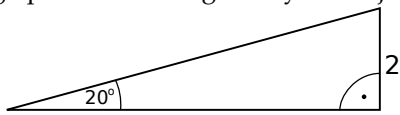
- A) 60° B) 50° C) 40° D) 30°




Odpowiedź:

ZADANIE 5

Przybliżona długość przeciwprostokątnej trójkąta prostokątnego przedstawionego na rysunku jest równa



- A) 5,9 B) 5,49 C) 5,5 D) 5,85



Odpowiedź: