

ZADANIE 1

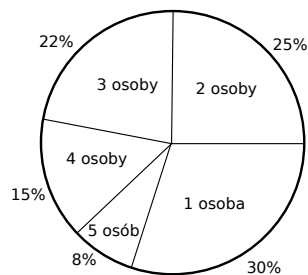
Tabela przedstawia pewne dane i ich liczebność

Wartość danej	-4	2	4	7	20
Liczebność	7	2	3	6	2

- Oblicz średnią arytmetyczną tych danych.
- Podaj medianę.
- Oblicz odchylenie standardowe.

ZADANIE 2

Przeprowadzono badania, dotyczące liczby osób jadących w samochodach osobowych w godzinach rannych, w kierunku centrum pewnego miasta. Wyniki badań przedstawione są na digramie kołowym.



- Oblicz średnią liczbę osób jadących w samochodzie osobowym w godzinach rannych w kierunku centrum.
- Oblicz prawdopodobieństwo, że w losowo wybranym samochodzie osobowym, w godzinach rannych, w kierunku centrum, były więcej niż 3 osoby.
- Wiedząc, że samochodów osobowych, w których były 4 osoby, zaobserwowano o 350 więcej, niż samochodów w których było 5 osób, oblicz, ile wszystkich samochodów obserwowano w trakcie badań.

ZADANIE 3

Zważono 150 losowo wybranych kostek masła produkowanego przez pewien zakład mleczarski. Wyniki badań przedstawiono w tabeli.

Masa kostki masła [dag]	Liczba kostek masła
16	1
18	15
19	24
20	68
21	26
22	16

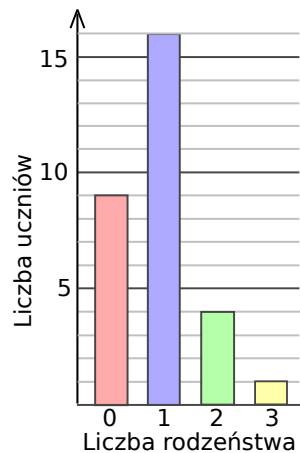
Na podstawie danych przedstawionych w tabeli oblicz średnią arytmetyczną oraz odchylenie standardowe masy kostki masła.

ZADANIE 4

Uczniowie napisali pracę kontrolną. 30% uczniów otrzymało piątkę, 40% otrzymało czwórkę, 8 uczniów otrzymało trójkę, a pozostali ocenę dopuszczającą. Średnia ocen wynosiła 3,9. Ilu uczniów otrzymało piątkę?

ZADANIE 5

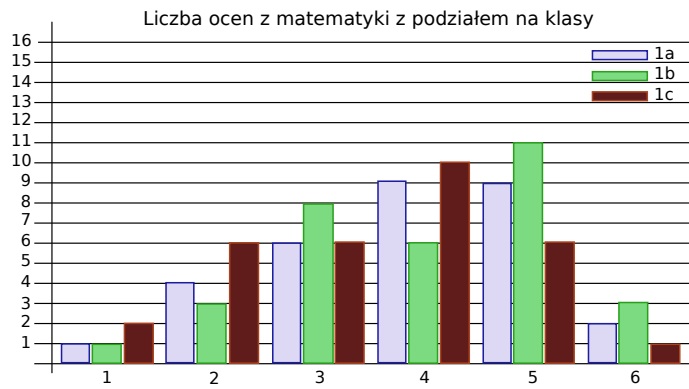
W pewnym liceum, wśród uczniów 30 osobowej klasy (każdy uczeń pochodzi z innej rodziny), zebrano dane na temat posiadanego rodzeństwa. Wyniki badań przedstawiono na diagramie.



- Wychowawczynie wybrała 3 osoby z tej klasy. Oblicz prawdopodobieństwo, że jedna z nich ma dwoje rodzeństwa, a dwie pozostałe nie mają rodzeństwa. Wynik zaokrąglij do części setnych.
- Oblicz średnią liczbę dzieci w jednej badanej rodzinie, odchylenie standardowe i medianę.

ZADANIE 6

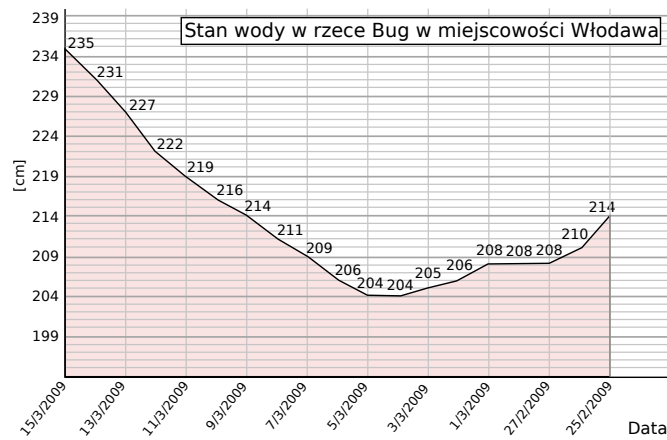
W pewnej szkole przeprowadzono ten sam sprawdzian z matematyki w trzech klasach 1a, 1b i 1c. Na poniższym diagramie przedstawiono wyniki tego sprawdzianu z wyszczególnieniem liczby osób, które uzyskały poszczególne oceny.



- Ilu uczniów pisało sprawdzian w poszczególnych klasach?
- Która z ocen była wystawiana najczęściej?
- W której klasie średnia ocen ze sprawdzianu była najwyższa?

ZADANIE 7

Na podanym wykresie przedstawiono stan wody



w rzece Bug w okresie od 25 lutego do 15 marca 2009.

- W których dniach stan wody w rzece nie przekraczał 207 cm?
- Jaki był średni stan wody w rzece w dniach 1-10 marca 2009?
- O ile procent podniósł się stan wody w rzece między 6 a 12 marca? Wynik podaj z dokładnością do jednego punktu procentowego.

#### ZADANIE 8

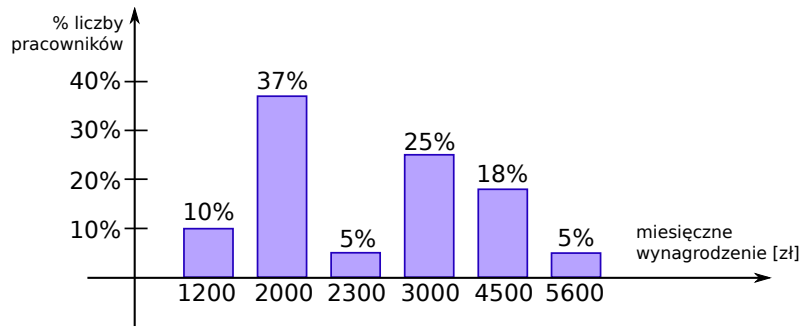
Właściciel kiosku notował liczbę biletów komunikacji miejskiej sprzedanych w kolejnych godzinach. Wyniki obserwacji zapisał w tabeli.

Czas obserwacji	Liczba biletów
5:00–6:00	2
6:00–7:00	3
7:00–8:00	9
8:00–9:00	8
9:00–10:00	6
10:00–11:00	4
11:00–12:00	3
12:00–13:00	3
13:00–14:00	3
14:00–15:00	5
15:00–16:00	8
16:00–17:00	6

- Oblicz średnią liczbę biletów sprzedawanych w ciągu 1 godziny.
- Wynikiem „typowym” nazywamy wynik, który różni się od średniej o mniej niż jedno odchylenie standardowe. Podaj wszystkie godziny, w których liczba sprzedanych biletów nie była „typowa”.

#### ZADANIE 9

Na diagramie poniżej przedstawiono procentowy podział miesięcznych zarobków w pewnej firmie.



- Podaj medianę tych zarobków
- Wyznacz średnią kwotę miesięcznych zarobków w tej firmie.
- Oblicz prawdopodobieństwo, że losowo wybrany pracownik tej firmy zarabia miesięcznie więcej niż 3000 zł.

#### ZADANIE 10

Oblicz z dokładnością do 0,1 odchylenie standardowe następujących danych:

- 2; 0; 1; 4; 7; 14.

b)

<b>Wartość</b>	-3	-1	0	4	6
<b>Liczebność</b>	10	6	4	2	3

#### ZADANIE 11

Uczeń otrzymał pięć ocen: 5, 3, 6,  $x$ , 3. Średnia arytmetyczna tych ocen jest równa 4. Oblicz  $x$  i medianę tych pięciu ocen.

#### ZADANIE 12

Wyniki klasówki z matematyki, której średnia ocen była równa 3,5 przedstawiono w tabeli.

<b>Oceny</b>	1	2	3	4	5	6
<b>Liczba uczniów</b>	2	2	$x$	9	3	2

- Oblicz  $x$ .
- Oblicz medianę danych.

#### ZADANIE 13

Tabela zawiera niektóre wyniki pisemnego sprawdzianu z matematyki w pewnej klasie maturalnej (oceniono go w sześciostopniowej skali ocen).

	Dziewczęta	Chłopcy
<b>liczba osób</b>	11	14
<b>średnia ocen</b>	4,0	3,8
<b>odchylenie standardowe</b>	1,1	1,8

Oblicz średnią ocen z tego sprawdzianu oraz odchylenie standardowe dla całej klasy. Wyniki podaj z zaokrągleniem do jednego miejsca po przecinku.

ZADANIE 14

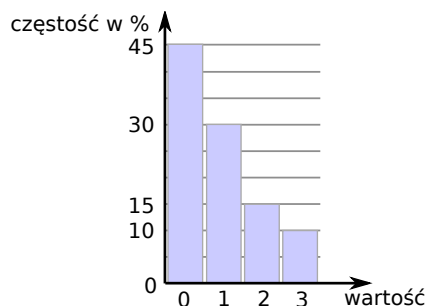
Średnia wieku 15 mieszkańców pewnego bloku wynosi 33 lata. Gdy do wolnego mieszkania wprowadził się nowy mieszkaniec, średnia zwiększyła się o 1 rok. Ile lat ma nowy mieszkaniec?

ZADANIE 15

Oblicz medianę danych: 0, 1, 3, 3, 1, 1, 2, 1.

ZADANIE 16

Oblicz średnią arytmetyczną danych przedstawionych na poniższym diagramie częstości



ZADANIE 17

Marek waha się, który obóz letni wybrać. Aby podjąć najlepszą decyzję sporządził tabelkę i obliczył średnie ważone. Który obóz powinien wybrać?

	Koszt (waga 0,4)	Termin (waga 0,1)	Towarzystwo (waga 0,3)	Atrakcyjność (waga 0,2)	Średnia
Obóz wędkarski	8	2	8	4	
Obóz żeglarski	4	4	6	7	
Obóz rowerowy	7	6	5	5	

ZADANIE 18

Tabela przedstawia wyniki części teoretycznej egzaminu na prawo jazdy. Zdający uzyskał wynik pozytywny, jeżeli popełnił co najwyżej dwa błędy.

<b>Liczba błędów</b>	0	1	2	3	4	5	6	7	8
<b>Liczba zdających</b>	8	5	8	5	2	1	0	0	1

- Oblicz średnią arytmetyczną liczby błędów popełnionych przez zdających ten egzamin. Wynik podaj w zaokrągleniu do całości.
- Oblicz prawdopodobieństwo, że wśród dwóch losowo wybranych zdających tylko jeden uzyskał wynik pozytywny. Wynik zapisz w postaci ułamka zwykłego nieskracalnego.

## ZADANIE 19

Tabela przedstawia dane dotyczące wieku kobiet i mężczyzn pracujących w małej firmie zatrudniającej 7 osób:

	Kobiety	Mężczyźni
<b>Liczba osób</b>	3	4
<b>Średni wiek</b>	26	33
<b>Odchylenie standardowe</b>	1,4	4,6

Wyznacz średnie odchylenie standardowe liczone dla wszystkich osób pracujących w tej firmie.

## ZADANIE 20

Mediana trzech liczb jest równa 4, a ich średnia arytmetyczna jest równa 5. Oblicz sumę największej i najmniejszej z tych liczb.

## ZADANIE 21

Pewna maszyna wykonuje śruby o średnicy 14 mm. Dokonano kontroli jakości wykonywanych śrub i jej wyniki zebrano w tabeli.

<b>Średnica w mm</b>	13,8	13,9	14	14,1	14,2
<b>Liczba śrub</b>	8	17	48	13	14

Opierając się na podanych danych.

- Oblicz średnią średnicę śruby.
- Oblicz prawdopodobieństwo wyprodukowania śruby o średnicy z przedziału  $(13,9; 14,1)$ .
- Oblicz odchylenie standardowe średnicy śruby. Wynik podaj z dokładnością do 0,01.

## ZADANIE 22

Średnia arytmetyczna liczb  $a, b, c$  jest równa 15. Oblicz średnią arytmetyczną liczb  $a + 7, b + 3, c + 8$ .

## ZADANIE 23

Sprzedawca kwiatów notował w tabeli ilość otrzymanych banknotów z podziałem według ich nominałów.

	1 dzień	2 dzień	3 dzień	4 dzień	5 dzień
<b>10 zł</b>	2	7	4	6	1
<b>20 zł</b>	5	5	2	4	3
<b>50 zł</b>	2	3	0	3	5
<b>100 zł</b>	1	3	1	1	2

- Podaj, w których dniach jego przychody były wyższe niż średni dzienny przychód w ciągu tych pięciu dni.
- Oblicz odchylenie standardowe liczby otrzymanych banknotów w ciągu tych pięciu dni. Wynik podaj z dokładnością do 0,1.

ZADANIE 24

Oblicz medianę następujących danych: 13,2; 15; 12,225; 14; 16,8; 42,7; 22,1; 31,4; 20,6; 18,4.

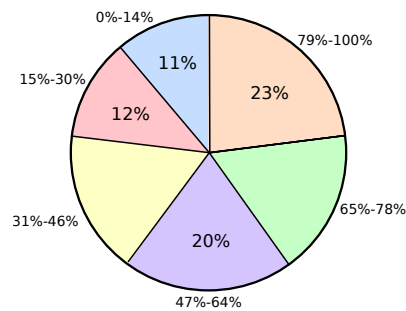
ZADANIE 25

Oblicz medianę danych przedstawionych w postaci tabeli liczebności

<b>Wartość</b>	0	1	2	3
<b>Liczebność</b>	4	3	1	1

ZADANIE 26

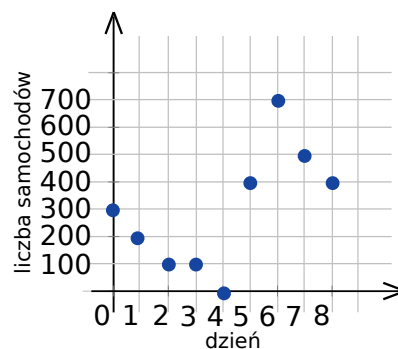
Na poniższym diagramie przedstawiono zbiorcze wyniki z egzaminu maturalnego z matematyki na poziomie rozszerzonym w 2008 roku. Diagram przedstawia rozkład wyników pogrupowanych w zależności od procentowego wyniku egzaminu.



- Wiedząc, że egzamin na poziomie rozszerzonym zdawało 40598 maturalistów oblicz, ilu maturalistów uzyskało wynik w przedziale 0%–30%.
- Wiedząc, że 60% maturalistów uzyskało z egzaminu co najmniej 47% punktów oblicz, jaki procent maturalistów uzyskał wynik w przedziale 31%–46%.
- Oblicz jakie jest prawdopodobieństwo, że losowo wybrany maturalysta uzyskał wynik poniżej 47%.

ZADANIE 27

Na pewnym przejściu granicznym celnicy odprawiają codziennie 200 samochodów ciężarowych. Na wykresie pokazano liczby ciężarówek oczekujących na odprawę celną o godzinie 24.00 każdego z pierwszych ośmiu dni lutego.



- Wymień te dni, w których stanęło w kolejce do odprawy celnej co najmniej 200 samochodów ciężarowych.

- b) Pewnego dnia o północy związkowcy z Samoobrony zablokowali na 24 godziny dojazd do przejścia granicznego. Kiedy to było?
- c) Dziedzina funkcji  $f$  jest zbiór  $\{1 \text{ II}, 2 \text{ II}, \dots, 8 \text{ II}\}$ . Funkcja  $f$  każdemu argumentowi przyporządkowuje liczbę ciężarówek, które w danym dniu stanęły w kolejce do odprawy celnej. Podaj wartości tej funkcji.

Rozwiązania zadań znajdziesz na stronie  
[HTTP://WWW.ZADANIA.INFO/4865\\_8950R](http://www.zadania.info/4865_8950R)